

# Ноябрьская контрольная по ТРЯП

## Задачи

ФУПМ 2018

### Блок основных задач

**Задача 1 (i)(2).** Язык  $L$  задан регулярным выражением  $(b|ab|aab^*a)^*aab^*$ . Построить эквивалентный ДКА.

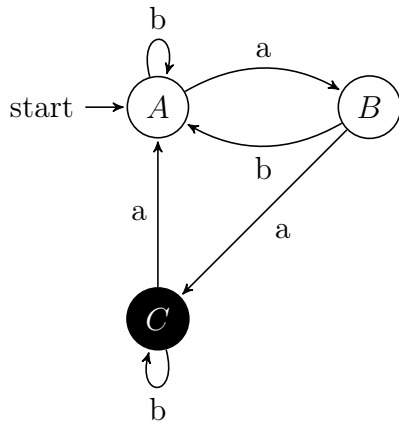
**1 (ii).**  $((ab^*a|b)a^*b)^*$ .

**Решение.**

**1 (i).**  $(b|ab|aab^*a)^*aab^*\#$   
 $\begin{matrix} 1 & 23 & 456 & 7 & 8910 & 11 \\ \end{matrix}$

i	Followpos(i)
1	1,2,4,8
2	3
3	1,2,4,8
4	5
5	6,7
6	6,7
7	1,2,4,8
8	9
9	10,11
10	10,11

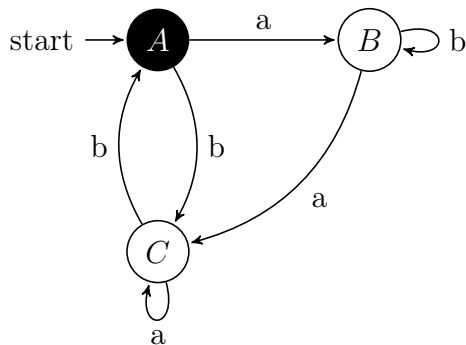
	a	b
$A=1, 2, 4, 8$ $\begin{matrix} b & a & a & a \end{matrix}$	B	A
$B=3, 5, 9$ $\begin{matrix} b & a & a \end{matrix}$	C	A
$C=6, 7, 10, 11$ $\begin{matrix} b & a & b & \# \end{matrix}$	A	C



1 (ii).  $((ab^*a|b)a^*b)^*\#$

i	Followpos(i)
1	2,3
2	2,3
3	5,6
4	5,6
5	5,6
6	1,4,7

	a	b
A=1, 4, 7 a b #	B	C
B=2, 3 b a	C	B
C=5, 6 a b	C	A



Задача 2 (2). Построить ДКА для языка  $L$ , если дополнение языка  $\bar{L}$

задано грамматикой:

2 (i).  $(\{A, B, C, D, E\}, \{a, b\}, \{A \rightarrow bA \mid bB \mid aE; B \rightarrow aB \mid bC \mid D; C \rightarrow aC \mid aA; D \rightarrow aE \mid \varepsilon; E \rightarrow aE \mid bE\}, A)$ .

2 (ii).  $(\{A, B\}, \{a, b\}, \{A \rightarrow aC \mid aB; B \rightarrow aA \mid bA \mid bB \mid b; C \rightarrow \varepsilon\}, A)$ .

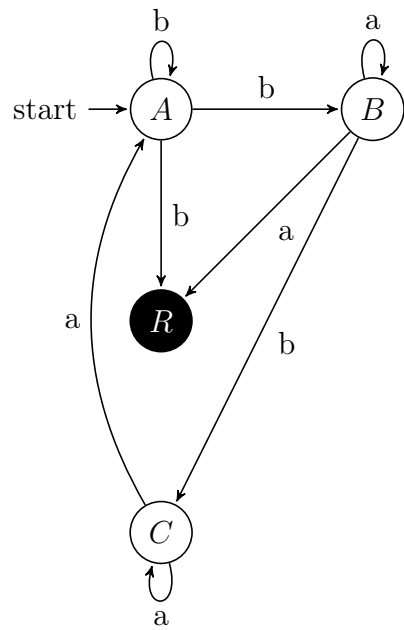
**Решение.**

Используя стандартные процедуры, строим:

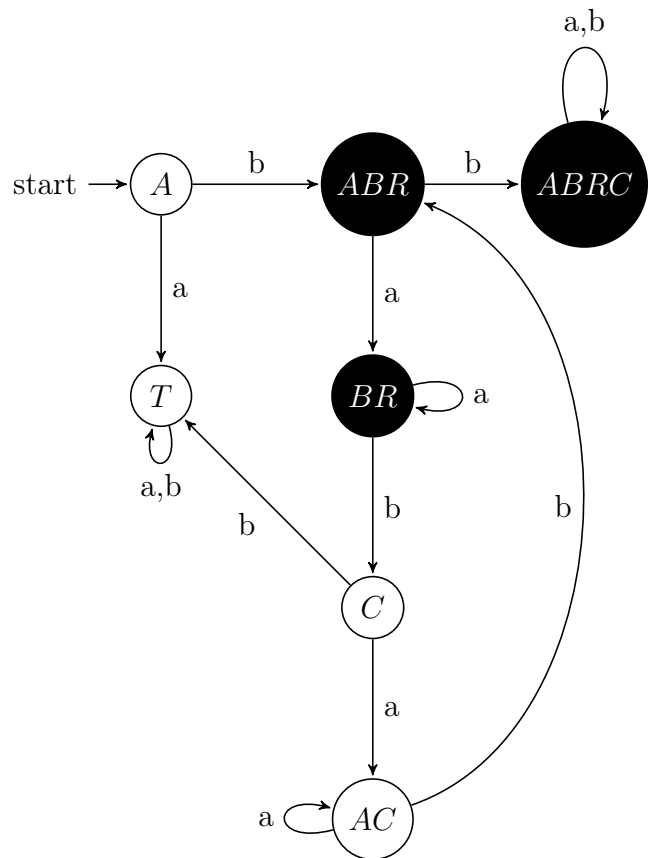
- по праволинейной грамматике праволинейную регулярную
- по праволинейной регулярной грамматике НКА
- по НКА строим ПДКА для  $\bar{L}$
- обращаем финальные и не финальные состояния и получаем ПДКА для  $L$

2 (i).

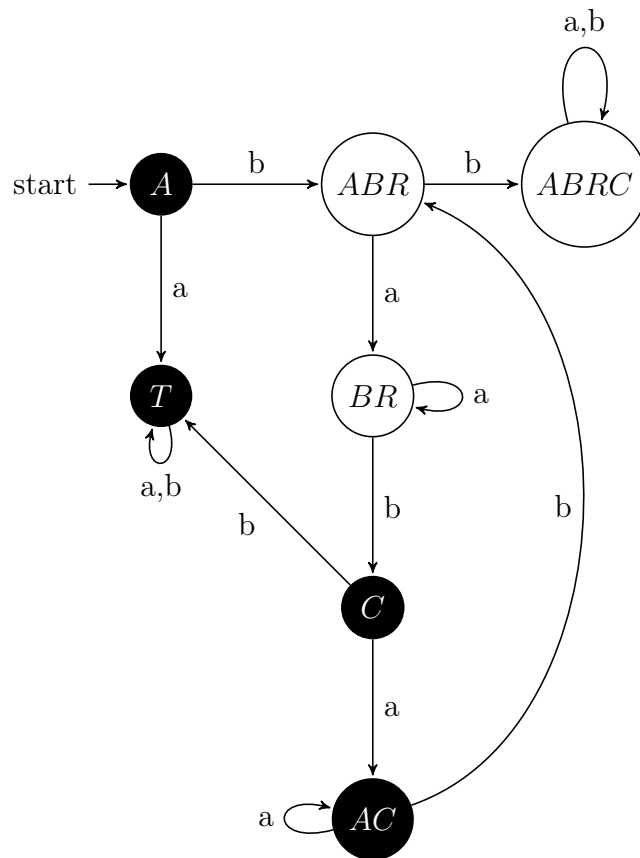
- Поскольку нетерминал  $D$  присутствует только в правой части  $B \rightarrow D$  и левой части  $D \rightarrow \varepsilon$  и  $D \rightarrow aE$ , заменим эти три правила на  $B \rightarrow \varepsilon$  и  $B \rightarrow aE$  и получим эквивалентную праволинейную грамматику. Данная грамматика все еще не является регулярной, поскольку содержит правило  $B \rightarrow \varepsilon$ . Нетерминал  $B$  встречается в правых частях правил  $A \rightarrow bB$ ,  $B \rightarrow aB$ . Удалим правило  $B \rightarrow \varepsilon$  и добвим вместо него  $A \rightarrow b$ ,  $B \rightarrow a$ . Из нетерминала  $E$  выводятся только  $aE$  и  $bE$ , а значит не существует вывода слова из терминалов с участием нетерминала  $E$ . Следовательно, при удалении всех правил с участием нетерминала  $E$  получим эквивалентную праволинейную регулярную грамматику.
- По праволинейной регулярной грамматике НКА:



- По НКА строим ПДКА:

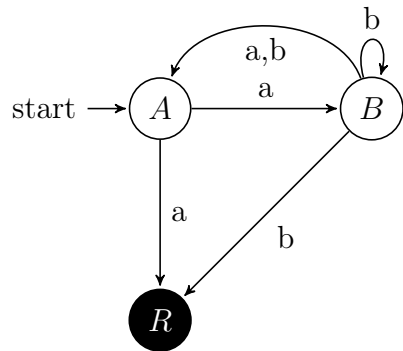


- Обращаем финальные и не финальные состояния и получаем ПД-КА для  $L$ :

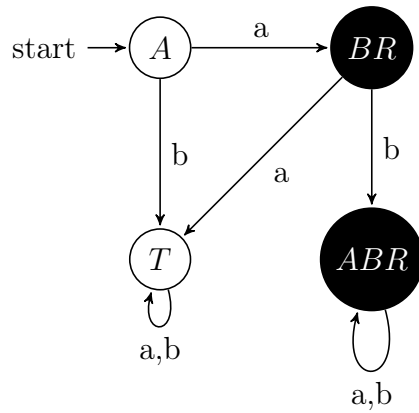


2 (ii). В этой задаче опечатка в множестве нетерминальных символов.

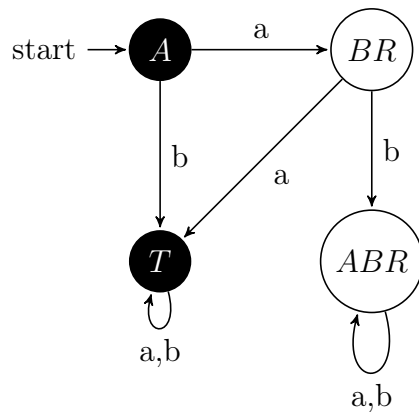
- Поскольку нетерминал  $C$  присутствует только в правой части  $A \rightarrow aC$  и левой части  $C \rightarrow \varepsilon$ , заменим эти два правила на  $A \rightarrow a$  и получим эквивалентную праволинейную регулярную грамматику.
- По праволинейной регулярной грамматике НКА:



- По НКА строим ПДКА:

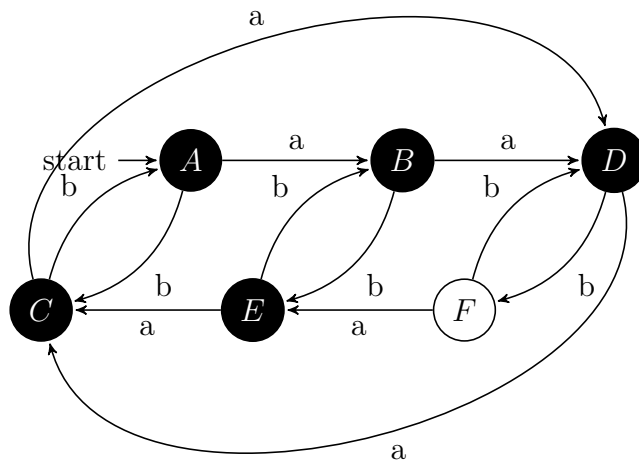


- Обращаем финальные и не финальные состояния и получаем ПДКА для  $L$ :



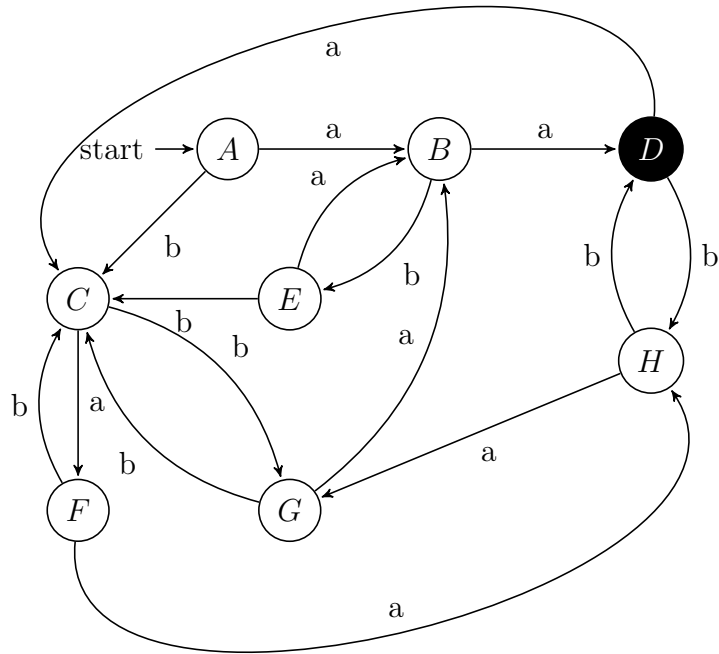
**Задача 3 (2).** Для ДКА, заданного диаграммой, построить всюдуопределённый минимальный ДКА.

**3 (i).**



**3 (ii).**

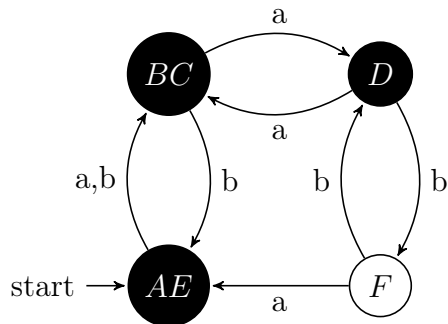




**Решение.**

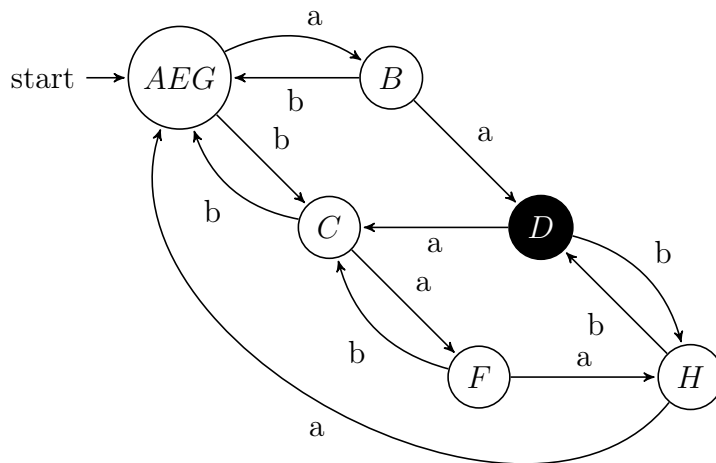
3 (i). Данный автомат является ПДКА. Построим минимальный ПДКА по стандартной процедуре:

- {ABCDE}{F}
- {ABCE}{D}{F}
- {AE}{BC}{D}{F}



3 (ii). Данный автомат является ПДКА. Построим минимальный ПДКА по стандартной процедуре:

- {ABCEFGH}{D}
- {ACEFG}{BH}{D}
- {AEG}{B}{C}{D}{F}{H}



**Задача 4(3)** [Д.Г.]. Является ли язык  $L$  регулярным?

4 (i).  $L = \{a^{i+2j}b^{3j+k}c^{k+2i} \mid i \geq 0, j \geq 0, k \geq 0\}$

4 (ii).  $L = \{a^{2i+j}b^{j+4k}c^{3k+i} \mid i \geq 0, j \geq 0, k \geq 0\}$

**Решение.**

Запишем отрицание леммы о разрастании:

$$\forall n \in \mathbb{N} \quad \exists w \in L \quad |w| \geq n \quad \forall x, y, z \in \Sigma^* \\ (xyz = w) \cdot (|xy| \leq n) \cdot (|y| \geq 1) \quad \exists t \in \mathbb{N} \cup \{0\} : xy^t z \notin L$$

**4 (i).**  $(3j+k) + (k+2i) \geq i+2j$ , то есть количество букв  $a$  не превышает количество остальных букв в слове. Возьмем любое  $n \in \mathbb{N}$ . Рассмотрим слово  $w = a^{i+2j}b^{3j+k}c^{k+2i}$  такое, что  $i \geq n$ . Тогда для любого разбиения слова  $w$  на  $x, y, z$  такого, что  $(xyz = w) \cdot (|xy| \leq n) \cdot (|y| \geq 1)$  слово  $y = a^r, r \geq 1$ . Тогда слово  $xy^{2(3j+k)+2(k+2i)}z$  содержит больше букв  $a$ , чем остальных, то есть не принадлежит языку  $L$ . Следовательно, выполняется отрицание леммы о разрастании, а значит язык не является регулярным.

**4 (ii).**  $2((j+4k)+(3k+i)) \geq 2i+j$ , то есть количество букв  $a$  не превышает удвоенное количество остальных букв в слове. Возьмем любое  $n \in \mathbb{N}$ . Рассмотрим слово  $w = a^{2i+j}b^{j+4k}c^{3k+i}$  такое, что  $i \geq n$ . Тогда для любого разбиения слова  $w$  на  $x, y, z$  такого, что  $(xyz = w) \cdot (|xy| \leq n) \cdot (|y| \geq 1)$  слово  $y = a^r, r \geq 1$ . Тогда слово  $xy^{4((j+4k)+(3k+i))}z$  содержит больше букв  $a$ , чем удвоенное количество остальных, то есть не принадлежит языку  $L$ . Следовательно, выполняется отрицание леммы о разрастании, а значит язык не является регулярным.

**Задача 5 (4)** [А.Р.]. Язык  $L_{>}$  задан над алфавитом  $\Sigma = \{0, 1, \dots, 9\}$ . Является ли он регулярным?

**5 (i).**

$$L_{>} = \left\{ w \mid |w| = 2n > 0, \sum_{i=1}^n w[2i] > \sum_{i=1}^n w[2i-1] \right\}$$

**5 (ii).**

$$L_{<} = \left\{ w \mid |w| = 2n > 0, \sum_{i=1}^n w[2i] < \sum_{i=1}^n w[2i-1] \right\}$$

**Решение.**

Запишем отрицание леммы о разрастании:

$$\forall m \in \mathbb{N} \quad \exists w \in L \quad |w| \geq m \quad \forall x, y, z \in \Sigma^* \\ (xyz = w) \cdot (|xy| \leq m) \cdot (|y| \geq 1) \quad \exists t \in \mathbb{N} \cup \{0\} : xy^t z \notin L$$

**5 (i).** Возьмем любое  $m \in \mathbb{N}$ . Рассмотрим слово  $w = (01)^m(10)^{m-1}$ . Сумма четных разрядов в нем больше, чем сумма нечетных ровно на 1. Количество букв в слове четное. То есть слово  $w$  лежит в языке  $L$ . Рассмотрим

произвольное разбиение слова  $w$  на  $x, y, z$  такое, что  $(xyz = w) \cdot (|xy| \leq m) \cdot (|y| \geq 1)$ . Если подслово  $y$  имеет нечетную длину, то  $xy^2z$  имеет нечетную длину и не принадлежит языку  $L$ . Если подслово  $y$  имеет четную длину, то  $y$  содержит хотябы одну единицу, причем все лежащие в  $y$  единицы находятся на четных разрядах слова  $w$ . Но тогда  $xy^0z$  будет содержать столько же единиц на нечетных разрядах, что и  $xyz$ , но меньше единиц на четных разрядах. Но тогда в слове  $xy^0z$  сумма четных разрядов не больше чем сумма нечетных разрядов, а значит слово не принадлежит языку  $L$ . Следовательно, для языка  $L$  выполняется отрицание леммы о разрастании

**5** (ii). Возьмем любое  $m \in \mathbb{N}$ . Рассмотрим слово  $w = w = (10)^m(01)^{m-1}$ . Сумма нечетных разрядов в нем больше, чем сумма четных ровно на 1. Количество букв в слове четное. То есть слово  $w$  лежит в языке  $L$ . Остальная часть решения аналогична предыдущему пункту.

**Задача 6** (4) [А.Р.]. Язык  $L$  задан над алфавитом  $\Sigma = \{0, 1, \dots, 9\}$ . Является ли он регулярным?

**6** (i).

$$L = \left\{ w \mid \exists i, j, k, l, m \geq 0 : w[i] = w[j] = 2l, i \neq j \text{ и } \max_{i \leq k \leq j} (w[k]) = 2m \right\}$$

Или другими словами,  $w \in L$ , если и только если максимум на некотором отрезке с одинаковыми чётными цифрами на концах чётный.

**6** (ii).

$$L = \left\{ w \mid \exists i, j, k, l, m \geq 0 : w[i] = w[j] = 2l + 1, i \neq j \text{ и } \min_{i \leq k \leq j} (w[k]) = 2m + 1 \right\}$$

Или другими словами,  $w \in L$ , если и только если минимум на некотором отрезке с одинаковыми нечётными цифрами на концах нечётный.

**Решение.**

Обозначим  $\overline{L}_y^x$  язык, содержащий отрезок с концами  $y$  и максимумом  $x$  ( $x \geq y$ ), а  $\underline{L}_y^x$  язык, содержащий отрезок с концами  $y$  и минимумом  $x$  ( $x \leq y$ ).

$$\bar{L}_x^x = \Sigma^* x(0 + \dots + x)^* x \Sigma^*$$

$$\bar{L}_y^x = \Sigma^* y(0 + \dots + x)^* x(0 + \dots + x)^* y \Sigma^*$$

$$\underline{L}_x^x = \Sigma^* x(x + \dots + 9)^* x \Sigma^*$$

$$\underline{L}_y^x = \Sigma^* y(x + \dots + 9)^* x(x + \dots + 9)^* y \Sigma^*$$

**6 (i).**  $L = \bar{L}_0^0 \cup \bar{L}_0^2 \cup \bar{L}_0^4 \cup \bar{L}_0^6 \cup \bar{L}_0^8 \cup \bar{L}_2^2 \cup \bar{L}_2^4 \cup \bar{L}_2^6 \cup \bar{L}_2^8 \cup \bar{L}_4^4 \cup \bar{L}_4^6 \cup \bar{L}_4^8 \cup \bar{L}_6^6 \cup \bar{L}_6^8 \cup \bar{L}_8^8$  Язык  $L$  является регулярным как объединение конечного числа регулярных языков.

**6 (ii).** Аналогично предыдущему.

## Вопросы и мини задачи

**Задача 7 (1)** [Пентус].

**7 (i).** Существует ли такой язык  $L$ , что языки  $L$  и  $\{a, b\}^* \setminus L$  оба конечны?

**7 (ii).** Существует ли такой конечный язык  $L$ , что языки  $L$  и  $\{a, b\}^* \setminus L$  оба нерегулярны?

**Решение.**

**7 (i).** Объединение двух конечных множеств является конечным,

$$\{a, b\}^* \setminus L \cup L = \{a, b\}^*,$$

а  $\{a, b\}^*$  является бесконечным множеством. Следовательно, языки языки  $L$  и  $\{a, b\}^* \setminus L$  не могут быть оба конечными.

**7 (ii).** Нет, конечный язык всегда является регулярным.

**Задача 8 (2).**

**8 (i).** Пересечения языка  $L$  и регулярного языка  $R$  регулярный язык. Следует ли отсюда, что  $L$  регулярный язык?

8 (ii). Пересечения языка  $L_1$  и нерегулярного языка  $L_2$  нерегулярный язык. Следует ли отсюда, что  $L_1$  нерегулярный язык?

**Решение.**

8 (i). Нет, не следует. Пусть, например,  $R$  задается выражением  $a^*$ , а  $L = \{a^n b^n | n \in \mathbb{N}\}$ . Их пересечение является пустым множеством, а пустое множество является регулярным языком.

8 (ii). Нет, не следует. Пусть, например,  $L_2$  задан в алфавите  $\Sigma$ , а  $L_1 = \Sigma^*$ . Тогда  $L_1$  является регулярным, а пересечение  $L_1$  и  $L_2$  совпадает с  $L_2$ , то есть является нерегулярным.

**Задача 9 (3) [А.Р.].**

9 (i). Сколько состояний в полном минимальном ДКА, распознающем все слова над алфавитом  $\{a, b\}$ , содержащие хотя бы одно подслово из списка  $aa, bab, bba, ba, bbb$ ?

9 (ii). Сколько состояний в полном минимальном ДКА, распознающем все слова над алфавитом  $\{a, b\}$ , содержащие хотя бы одно подслово из списка  $ba, aab, aaa, bb, bba$ ?

**Решение.**

9 (i).  $ba$  является подсловом  $bab, bba$ . Следовательно, достаточно рассмотреть подслова  $aa, ba, bbb$ .

Классы эквивалентности Майхилла — Нерода будут иметь вид:

1. Сам язык  $L$
2. Слова из дополнения, у которых на конце  $a$
3. Слова из дополнения, у которых на конце один символ  $b$
4. Слова из дополнения, у которых на конце два символа  $b$
5.  $\varepsilon$

Соответственно, состояний в минимальном ПДКА будет пять.

9 (ii).  $bb$  является подсловом  $bba$ . Следовательно, достаточно рассмотреть подслова  $ba, aab, aaa, bb$ .

Классы эквивалентности Майхилла — Нерода будут иметь вид:

1. Сам язык  $L$
2. Слова из дополнения, у которых на конце два символа  $a$  или символ  $b$ .
3. Слова из дополнения, у которых на конце один символ  $a$
4.  $\varepsilon$

Соответственно, состояний в минимальном ПДКА будет четыре.

**Задача 10 (3) [ А.Р. ].**

**10 (i).** Пусть  $L$  нерегулярный язык, а  $\mathcal{F}$  — семейство классов  $L$ -эквивалентности (множество, состоящее из классов). Верно ли, что язык,  $F = \bigcup_{C \in \mathcal{F}} C$ , получившийся в результате объединения всех классов эквивалентности нерегулярный?

**10 (ii).** Пусть  $L$  регулярный язык, а  $\mathcal{F}$  — семейство классов  $L$ -эквивалентности (множество, состоящее из классов). Верно ли, что язык  $F_L = \bigcup_{C \in \mathcal{F}} C$ , получившейся в результате объединения всех классов  $L$ -эквивалентности, распознаётся некоторым ДКА с не более чем 2018 состояний?

**Решение.**

По определению  $L$ -эквивалентности объединение всех классов эквивалентности совпадает с  $\Sigma^*$ . Язык  $\Sigma^*$  является регулярным языком, распознаваемым ДКА с 1 состоянием (петли по всем буквам).

**Задача 11 (1+2) [ А.Р. ].** В РВ  $R$  над алфавитом  $\{a, b\}$  вместо символов  $a$  и  $b$  подставили языки  $L_a$  и  $L_b$  в результате чего получилась формула, задающая язык  $X$ .

**11 (i).** 1) Если языки  $L_a$  и  $L_b$  были регулярными, мог ли язык  $X$  оказаться нерегулярным?

2) Язык  $X$  получился регулярным. Следует ли отсюда, что  $L_a$  и  $L_b$  — регулярные языки?

**11 (ii).** 1) Язык  $X$  получился нерегулярным. Могли ли языки  $L_a$  и  $L_b$

оказаться регулярными?

2) Языки  $L_a$  и  $L_b$  — нерегулярные. Мог ли язык  $X$  получиться регулярным?

**Решение.**

**11 (i).** 1) Нет,  $X$  обязательно является регулярным, поскольку множество регулярных языков замкнуто относительно операций объединения, конкатенации и итерации по определению.

2) Нет, не следует. Пусть, например,  $L_a = \{0^n 1^n | n \in \mathbb{N}\}$ ,  $L_b = (0+1)^* \setminus L_a$ , а РВ  $R = a + b$ .  $L_a$  и  $L_b$  не являются регулярными, а их сумма совпадает с  $(0+1)^*$  и является регулярной.

**11 (ii).** 1) Множество регулярных языков замкнуто относительно операций объединения, конкатенации и итерации по определению. Следовательно, если  $L_a$  и  $L_b$  являются регулярными, то и  $X$  является регулярным.

2) Нет, не следует. Пусть, например,  $L_a = \{0^n 1^n | n \in \mathbb{N}\}$ ,  $L_b = (0+1)^* \setminus L_a$ , а РВ  $R = a + b$ .  $L_a$  и  $L_b$  не являются регулярными, а их сумма совпадает с  $(0+1)^*$  и является регулярной.