

Задание 2

НКА и алгоритмы поиска подстрок

Литература:

1. *Хопкрофт Д., Мотвани Р., Ульман Д.*
Введение в теорию автоматов, языков и вычислений.
М.: Вильямс, 2002.
2. *Ахо А., Ульман Д.*
Теория синтаксического анализа, перевода и компиляции
М.: Мир, 1978. Гл. 0, 2.
3. *Серебряков В.А., Галочкин М.П., Гончар Д.Р., Фуругян М.Г.*
Теория и реализация языков программирования.
М.: МЗ-пресс, 2006.
4. *Шень. А. Х.*
Программирование: теоремы и задачи
М.: МЦНМО, 2004.
5. *Журавлёв Ю.И., Флёров Ю.А, Вялый М.Н.*
Дискретный Анализ. Формальные системы и алгоритмы.
М.: МЗ-пресс, 2010.

Ключевые слова¹: язык, регулярные выражения, конкатенация, объединение, итерация, конечные автоматы (КА), детерминированные и недетерминированные КА, регулярные языки.

Упражнения из этого задания не обязательно решать и присылать: они не оцениваются. Их стоит решать, если вы хотите получить обратную связь. Задачи, помеченные звёздочкой, являются необязательными, но их решение сильно поощряется бонусными очками.

1 Построение по регулярному выражению конечного автомата

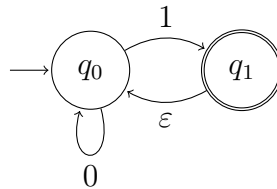
На семинаре мы разобрали алгоритм построения детерминированного конечного автомата по регулярному выражению. Однако, его нельзя на-

¹минимальный необходимый объём понятий и навыков по этому разделу)

звать простым. Построить недетерминированный автомат по регулярному выражению гораздо проще. В каком-то смысле, если вы имеете дело с регулярным выражением, вы имеете дело с НКА.

Напомним, что помимо обычных переходов недетерминированные автоматы, имеют также ε -переходы, т.е. переходы вида $\delta(q_i, \varepsilon) = q_j$. Наличие таких переходов означает, что попав в состояние q_i , автомат может перейти в состояние q_j не обрабатывая следующий символ слова.

Пример 1.



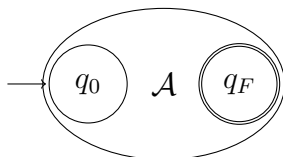
Легко видеть, что данный автомат принимает язык, состоящий из слов, оканчивающихся на 1. При прочтении 1, автомат переходит из состояния q_0 в q_1 , дальше, если во входном слове ещё остались необработанные символы, автомат делает ε -переход из состояния q_1 в q_0 и продолжает обработку слова.

Для построения НКА по РВ будем использовать определение регулярного языка. Напомним определение класса регулярных языков REG.

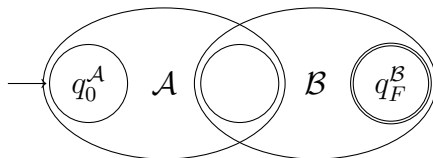
- $\emptyset \in \text{REG}$.
- $\forall \sigma \in \Sigma : \{\sigma\} \in \text{REG}$.
- $\forall X, Y \in \text{REG} : X \cdot Y, X|Y, X^* \in \text{REG}$.
- Больше нет регулярных языков.

Мы будем строить НКА по РВ из каждого пункта данного определения. С первыми двумя пунктами проблем нет – их я оставляю как лёгкое упражнение. Перейдём сразу к третьему пункту. Допустим уже построены автоматы \mathcal{A} и \mathcal{B} для регулярных языков X и Y соответственно. Мы будем предполагать, что оба автомата имеют всего одно принимающее состояние. Если в автомате несколько принимающих состояний, то можно построить эквивалентный ему автомат с единственным принимающим

состоянием, добавив к множеству состояний состояние q_F , которое будет единственным принимающим, и добавив ε -переходы в q_F из старого множества $F: \forall q \in F : \delta(q, \varepsilon) = q_F$. Будем схематично обозначать автоматы эллипсами, и помечать в них только начальное и принимающее состояние. Таким образом, автомат \mathcal{A} имеет вид



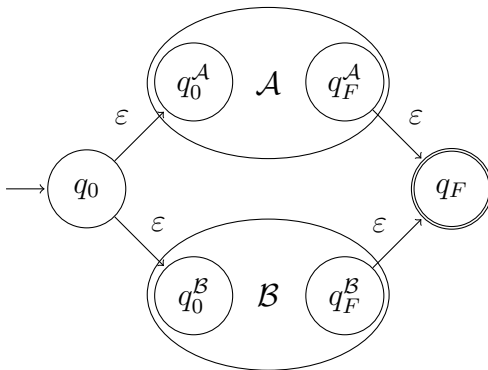
В дальнейшем, мы будем предполагать, что начальное состояние на схеме находится слева, а принимающее справа. Построим явно автомат распознающий $X \cdot Y$, $L(\mathcal{A}) = X$, $L(\mathcal{B}) = Y$.



Для этого по автомату \mathcal{A} распознающему язык X и автомату \mathcal{B} , распознающему язык Y мы строим автомат, распознающий $X \cdot Y$ объединяя множества состояний \mathcal{A} и \mathcal{B} так, что $q_0 = q_0^A$, $q_F = q_F^B$, $F = \{q_F^B\}$. Опять получили автомат с единственным принимающим состоянием.

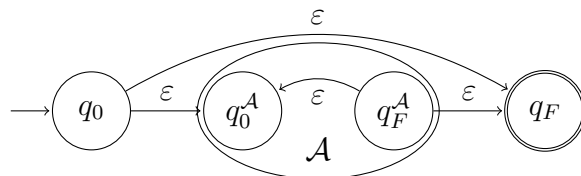
Упражнение 1. Доказать, что построенный автомат распознаёт язык $X \cdot Y$.

Для построения языка $X|Y$ используем следующую конструкцию:



Упражнение 2. Доказать, что построенный автомат распознаёт язык $X|Y$.

И наконец перейдём к построению автомата для языка X^* :



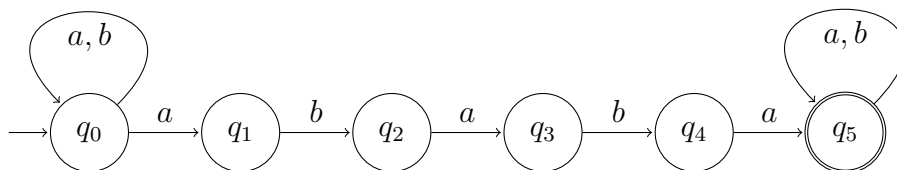
Упражнение 3. Доказать, что построенный автомат распознаёт язык X^* .

Задача 1. Постройте НКА по регулярному выражению $a((a|b)a)^*$.

Задача 2. Постройте по НКА, полученному в предыдущей задаче, ДКА.

2 Распознавание текстов

С помощью НКА можно легко описать язык, в который входят все слова, содержащие в качестве подслова некоторое слово. Например, следующий автомат распознаёт слова, содержащие подслово $ababa$.



Задача 3. Постройте по НКА, полученному в предыдущей задаче, ДКА.

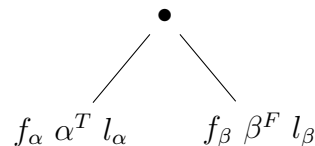
Задача 4* . Докажите, что по НКА данного вида $(\Sigma^*w\Sigma^*)$ можно построить ДКА, число состояний которого не превосходит $|w| + 1$.

Задача 5. Постройте НКА, распознающий слова, в которых есть хотя бы одно из подслов $abab, abb, abaa$.

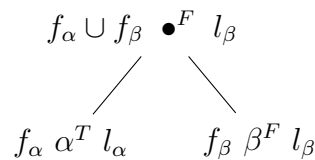
Задача 6* . Постройте по НКА из предыдущей задачи ДКА. Что можно сказать об оценке числа состояний для ДКА?

3 О построении ДКА по РВ

На семинаре мы изучили алгоритм построения ДКА по РВ. На первом этапе мы строили дерево и вычисляли значения атрибутов $firstpos$, $lastpos$ и $nullable$. Принцип вычисления этих атрибутов состоит в том, что имея значение атрибутов в дочерних узлах, мы можем вычислить атрибуты самого узла. Например для узла



атрибуты узла \bullet будут



потому что регулярное выражение $\alpha \cdot \beta$ порождает слово $w = uv$, такое что РВ α порождает u , РВ β порождает v , при этом слово u может быть пустым, а слово v – нет. Отсюда, если $u \neq \varepsilon$, то w начинается с тех же символов, что и u , а значит $f_\alpha \subseteq f_\bullet$, а если $u = \varepsilon$, то w начинается с тех же символов, что и слово v , поэтому $f_\beta \subseteq f_\bullet$, отсюда $f_\bullet = f_\alpha \cup f_\beta$. Поскольку слово w имеет непустой суффикс v , порождённый f_β , то $l_\bullet = l_\beta$.

Упражнение 4. Найти алгоритм вычисления атрибутов во всех остальных случаях для узлов с операциями \bullet и $|$. Если не получается придумать алгоритм, его можно найти в книге Серебрякова. Доказать корректность вычисления атрибутов.

Задача 7* . Мы рассматривали алгоритм построения ДКА по РВ, в котором не встречается пустое слово. В случае когда оно встречается, исходное РВ R может быть преобразовано либо в выражение R' , либо в выражение $R' | \varepsilon$, где в выражение R' пустое слово уже не входит. Предложите алгоритм, который осуществляет такое преобразование.

Задача 8* . Мы рассматривали алгоритм построения ДКА по РВ, в котором не встречается пустое множество. В случае когда оно встречается, исходное РВ R может быть преобразовано либо в выражение R' , либо в выражение $R' | \varepsilon$, причём пустое множество и пустое слово в выражение R' не входят. Предложите алгоритм, который осуществляет такое преобразование.

Указание: Введите новый атрибут в дерево.